

Geometrische Optik, optische Abbildung und Aberrationen

Stichworte:

Linienmacher-Gleichung, Abbildungsgleichung, GAUßscher Abbildungsbereich, BESSEL-Verfahren, Vergrößerung, Sehwinkelvergrößerung, Blende, Pupille, sphärische Aberration, chromatische Aberration, optische Geräte, Lupe, Fernrohr, Okular, Objektiv.

Messprogramm:

Brennweitenbestimmung mit der BESSEL-Methode, Messung der chromatischen und sphärischen Aberration einer Linse, Schärfentiefe, Sehwinkelvergrößerung mit einem Fernrohr.

Literatur:

- /1/ HECHT, E.: „Optik“, Oldenbourg, München u. a.
- /2/ BERGMANN-SCHÄFER: „Lehrbuch der Experimentalphysik - Band III Optik“, de Gruyter, Berlin u. a.

1 Einleitung

Beim Entwurf und der Realisierung optischer Instrumente und Experimente hat die geometrische Optik (Strahlenoptik) nach wie vor eine große praktische Bedeutung. Sie beruht auf vier Gesetzen, die sich aus dem FERMATschen Prinzip ableiten lassen: der *Geradlinigkeit* der Lichtausbreitung, der *Umkehrbarkeit optischer Wege*, dem *Reflexionsgesetz* und dem *Brechungsgesetz*. Neben soliden Kenntnissen der recht elementaren theoretischen Grundlagen der geometrischen Optik sind vor allem praktische Erfahrungen im richtigen Umgang mit einfachen optischen Komponenten nützlich, die in diesem Versuch gewonnen werden. Sie zählen mit zu den Grundvoraussetzungen, die Studierende mitbringen müssen, die sich im Laufe ihres Studiums mit moderner Optik bzw. Photonik befassen.

2 Theorie

Wir gehen davon aus, dass die theoretischen Grundlagen der geometrischen Optik noch aus der Schulzeit bekannt sind. Wir werden uns daher im Folgenden darauf beschränken, die Punkte stichwortartig zu wiederholen, die für die Versuchsdurchführung direkt von Bedeutung sind. Auf die Herleitung der meisten Formeln wird verzichtet, da sie ebenfalls als bekannt vorausgesetzt werden.

2.1 Vereinbarungen und Näherungen des Brechungsgesetzes

Wir halten zunächst einige allgemein übliche Vereinbarungen fest:

- Bei der Zeichnung und Beschreibung von Strahlengängen wird grundsätzlich *eine Lichtausbreitung von links nach rechts* vorausgesetzt.
- Der Raum links von einem abbildenden optischen System (im einfachsten Fall besteht es aus nur einer Linse) heißt *Gegenstandsraum*, der Raum rechts davon *Bildraum*.
- Die durch die Linsenmitte und die Brennpunkte der Linse verlaufende Achse heißt *optische Achse*. In einem kartesischen Koordinatensystem ist dies die *z*-Achse. In den Abbildungen dieses Textes ist die optische Achse immer als horizontale, strichpunktierte Linie gezeichnet.

Weitere Vereinbarungen ergeben sich aus Näherungen des Brechungsgesetzes (Abb. 1), das besagt: Tritt ein Lichtstrahl aus einem Medium 1 mit der Brechzahl n_1 in ein Medium 2 mit der Brechzahl n_2 ein, z. B. aus Luft in Glas, so gilt:

$$(1) \quad n_1 \sin \alpha = n_2 \sin \beta$$

Dabei ist α der Winkel zwischen dem einfallenden Strahl und dem Lot auf die Oberfläche des Mediums 2 (Einfallswinkel) und β der Winkel zum Lot, unter dem sich der Strahl im Medium 2 weiter ausbreitet.

Für $\sin \alpha$ kann man mithilfe der Reihenentwicklung schreiben:

$$(2) \quad \sin \alpha \approx \alpha - \frac{\alpha^3}{3!} + \frac{\alpha^5}{5!} - \dots$$

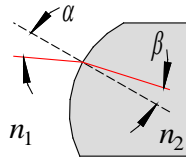


Abb. 1: Definition von Winkeln beim Brechungsgesetz.

In der geometrischen Optik spielen zwei Näherungen dieser Reihenentwicklung eine große Rolle. In der *Theorie erster Ordnung* beschränkt man sich auf so kleine Winkel α , dass nur der erste Term der Reihenentwicklung berücksichtigt werden muss, dass also näherungsweise gilt:

$$\sin \alpha \approx \alpha \quad \textit{Theorie erster Ordnung}$$

Die *Theorie dritter Ordnung* berücksichtigt auch etwas größere Winkel, sodass näherungsweise gilt:

$$\sin \alpha \approx \alpha - \frac{\alpha^3}{3!} \quad \textit{Theorie dritter Ordnung}$$

Bei den folgenden Überlegungen werden wir uns, wenn nicht ausdrücklich anders angegeben, auf die *Theorie erster Ordnung (paraxiale Theorie)* für *dünne, sphärische Linsen* beschränken. Das bedeutet:

- Wir werden nur enge Lichtbündel betrachten, die sich in der Nähe der optischen Achse und mit kleiner Neigung ($< 5^\circ$) gegen diese Achse ausbreiten (*GAUßscher Abbildungsbereich*).
- Wir werden davon ausgehen, dass die Linsen so dünn sind, dass ihre Hauptebenen in der Linsenmitte zusammenfallen.

2.2 Abbildungseigenschaften von Linsen

Die *Brennweite* f einer sphärischen Linse¹ lässt sich unter den in Kap. 2.1 genannten Voraussetzungen mithilfe der *Linsefmacher-Gleichung* berechnen:

$$(3) \quad \frac{1}{f} = (n - 1) \left(\frac{1}{R_1} - \frac{1}{R_2} \right)$$

Dabei ist gem. Abb. 2:

- n : Brechzahl des Linsenglases; n hängt von der Wellenlänge λ des Lichtes ab.
- R_1 : Krümmungsradius der linken Linsenoberfläche.
- R_2 : Krümmungsradius der rechten Linsenoberfläche.

Es ist:

- $R > 0$ wenn die Oberfläche nach links gewölbt ist (d. h. der auf der optischen Achse liegende Punkt der Linsenoberfläche befindet sich weiter links als die übrigen Oberflächenpunkte).
- $R < 0$ wenn die Oberfläche nach rechts gewölbt ist (d. h. der auf der optischen Achse liegende Punkt der Linsenoberfläche befindet sich weiter rechts als die übrigen Oberflächenpunkte).

Frage 1:

- Wie groß ist die Brennweite einer plankonvexen Linse aus Glas ($n = 1,5$), deren sphärische Fläche einen Krümmungsradius von $R = 100$ mm hat?
- Spielt es für die Brennweitenbestimmung nach Gl. (3) eine Rolle, ob bei einer plankonvexen Linse die plane Linsenoberfläche rechts oder links liegt?

¹ Eine sphärische Linse wird durch Flächen begrenzt, die die Form von Kugeloberflächen haben. Bei asphärischen Linsen sind die Oberflächen von anderer Form.

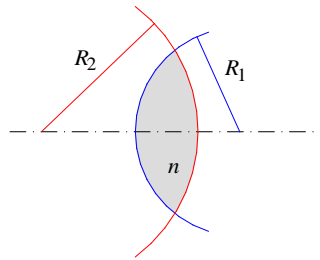


Abb. 2: Zur Definition der Vorzeichen der Krümmungsradien einer sphärischen Linse aus Glas (grau) mit der Brechzahl n . Im dargestellten Beispiel ist $R_1 > 0$ und $R_2 < 0$.

Wir betrachten gem. Abb. 3 die Abbildung eines oberhalb der optischen Achse liegenden Gegenstandes G mit einer einzelnen Linse L in ein unterhalb der optischen Achse liegendes Bild B. Es gilt die GAUßsche Linsengleichung (Abbildungsgleichung):

$$(4) \quad \frac{1}{f} = \frac{1}{g} + \frac{1}{b}$$

Dabei ist:

- g : Gegenstandsweite
 $g > 0$: reeller Gegenstand links von der Linse; $g < 0$: virtueller Gegenstand rechts von der Linse
- b : Bildweite
 $b > 0$: reelles Bild rechts von der Linse; $b < 0$: virtuelles Bild links von der Linse

Die transversale Vergrößerung M (der Abbildungsmaßstab) ist gegeben durch:

$$(5) \quad M = \frac{h_b}{h_g} = -\frac{b}{g} = 1 - \frac{b}{f}$$

mit

- h_b : Bildhöhe von optischer Achse aus gemessen.
- h_g : Gegenstandshöhe von optischer Achse aus gemessen.
- $h_{b,g} > 0$, wenn Bild bzw. Gegenstand oberhalb der optischen Achse liegen; $h_{b,g} < 0$ sonst.

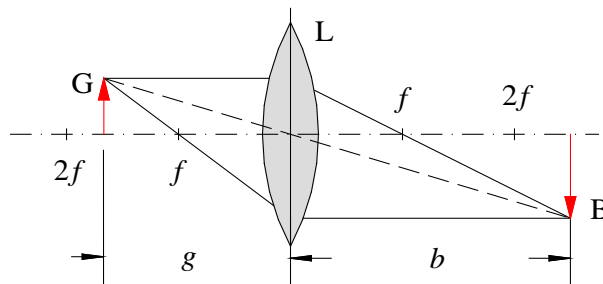


Abb. 3: Abbildung mit einer Linse L und Definition von Bezeichnungen. Bei dieser und den folgenden Abbildungen ist die Brennweite f als Maß auf der optischen Achse eingetragen, deren Ursprung in der Linsenmitte liegt.

Frage 2:

- Was bedeutet eine negative transversale Vergrößerung?

Bringt man zwei *dünne Linsen* mit den Brennweiten f_1 und f_2 dicht aneinander, so gilt für die Brennweite f dieses 2-Linsensystems:

$$(6) \quad \frac{1}{f} = \frac{1}{f_1} + \frac{1}{f_2}$$

2.3 Brennweitenbestimmung mit der BESSEL-Methode

Mit Hilfe von Gl. (4) lässt sich prinzipiell die Brennweite einer Linse experimentell ermitteln, indem für eine scharfe Abbildung Gegenstands- und Bildweite gemessen werden. Die Messung dieser Größen ist jedoch vor allem bei kleinen Brennweiten mit einer erheblichen Unsicherheit behaftet, da die Linsenmitte als Bezugsgröße für b und g schwer auszumachen ist. In der Praxis bedient man sich deshalb zur Brennweitenbestimmung der sogenannten *BESSEL-Methode* (Abb. 4).

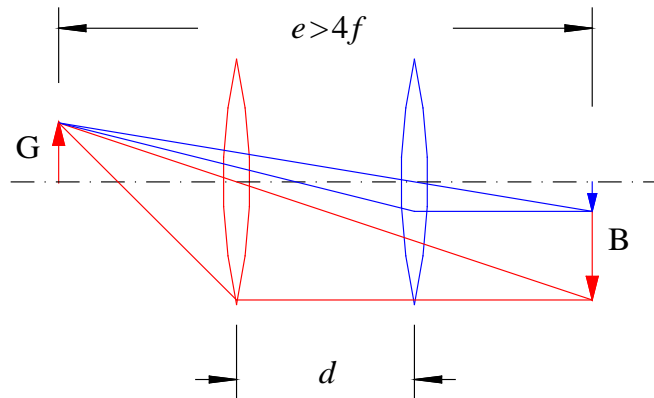


Abb. 4: Anordnung von Gegenstand G und Bild B bei der BESSEL-Methode. Beim Abstand $e > 4f$ zwischen G und B gibt es zwei Linsenpositionen (rot und blau) im Abstand d , bei denen eine scharfe Abbildung erreicht wird.

Bei diesem Verfahren wird ausgenutzt, dass es bei einer konstanten Entfernung $e > 4f$ zwischen Bild und Gegenstand zwei Linsenpositionen gibt, die zu einer scharfen Abbildung führen. Bei einer Position findet eine Vergrößerung (rot in Abb. 4), bei der anderen eine Verkleinerung (blau in Abb. 4) statt. Für beide Positionen gilt

$$(7) \quad g + b = e$$

Setzt man b nach Gl. (7) in Gl. (4) ein, so folgt:

$$(8) \quad \frac{1}{g} + \frac{1}{e - g} = \frac{1}{f}$$

Hieraus folgt für g :

$$(9) \quad g^2 - eg + ef = 0$$

Diese Gleichung liefert zwei Lösungen für g , die den beiden Linsenpositionen entsprechen:

$$(10) \quad g_{1,2} = \frac{e}{2} \pm \sqrt{\frac{e^2}{4} - ef}$$

Der Abstand d beider Positionen ist

$$(11) \quad d = g_1 - g_2 = 2\sqrt{\frac{e^2}{4} - ef}$$

der über eine Differenzmessung einfach ermittelt werden kann. Damit folgt schließlich für die gesuchte Brennweite f :

$$(12) \quad f = \frac{1}{4} \left(e - \frac{d^2}{e} \right)$$

2.4 Abbildungsfehler

Wir werden uns im Folgenden auf zwei besonders wichtige Abbildungsfehler beschränken, die *sphärische* und die *chromatische Aberration*.

2.4.1 Sphärische Aberration

Die sphärische Aberration tritt auf, wenn bei der optischen Abbildung der paraxiale Bereich verlassen wird, wenn die *Theorie erster Ordnung* also nicht mehr gilt.

Die Wirkung der sphärischen Aberration lässt sich recht anschaulich anhand der rechten Anordnung in Abb. 5 für eine plankonvexe Linse verdeutlichen: parallele Strahlen, die von einem unendlich weit entfernten Gegenstandspunkt stammen, treffen je nach Abstand von der optischen Achse unter unterschiedlichen Winkeln auf die brechende Linsenoberfläche. Bei einfachen sphärischen Flächen hat das zur Folge, dass die gebrochenen Strahlen die optische Achse nicht in *einem Brennpunkt*, sondern in unterschiedlichen Brennpunkten schneiden. Je größer der Abstand des einfallenden Strahls von der optischen Achse ist, desto kleiner ist die *Brennweite*. Eine Rechnung ergibt, dass die Brennweite f näherungsweise mit h^2 abnimmt, wobei h der Abstand von der optischen Achse ist. Trägt man demnach f über h^2 auf, ergibt sich in guter Näherung eine Gerade mit negativer Steigung:

$$(13) \quad f(h) \approx f_0 - k h^2$$

Dabei ist f_0 die Brennweite im paraxialen Bereich und $k > 0$ eine Konstante.

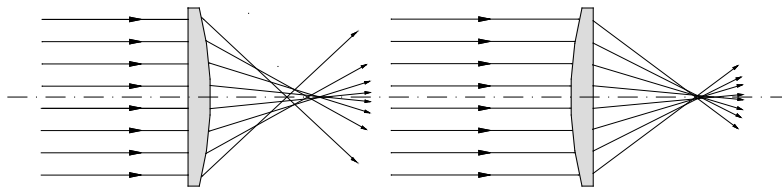


Abb. 5: Auswirkung der sphärischen Aberration bei unterschiedlicher Linsenorientierung.

Für eine Linse mit unterschiedlichen Krümmungsradien R_1 und R_2 lässt sich die sphärische Aberration minimieren, indem die Linse so in den Strahlengang eingebracht wird, dass die Brechung auf beide Grenzflächen möglichst gleichmäßig verteilt wird, d. h. indem versucht wird, an beiden Flächen möglichst ähnliche Ablenkwinkel für die einzelnen Strahlen zu erreichen. Für die Abbildung unendlich weit entfernter Gegenstände müsste also bei einer plankonvexen Linse eine Orientierung gem. der rechten Anordnung in Abb. 5 gewählt werden. Sie führt zu deutlich kleineren Abbildungsfehlern als die linke Anordnung.

Die sphärische Aberration lässt sich auch dadurch minimieren, dass vor der Linse eine Blende angebracht wird, die nur paraxiale Strahlenbündel durchlässt. Durch dieses *Abblenden* wird jedoch gleichzeitig das Bild dunkler. Man sagt, das Abbildungssystem (hier: Linse plus Blende) wird *lichtschwächer*.

In einem hochwertigen Fotoobjektiv wird die sphärische Aberration durch Kombination mehrerer Linsen zu einem Linsensystem (Objektiv) minimiert. Je teurer das Objektiv, desto mehr Linsen enthält es. 10 oder mehr Einzellinsen sind keine Seltenheit.

Im Praktikum setzen wir Einzellinsen ein, werden es also immer mit sphärischer Aberration zu tun haben.

2.4.2 Chromatische Aberration

Die chromatische Aberration wird durch die Abhängigkeit der Brechzahl n von der Lichtwellenlänge λ verursacht. Mit $n = n(\lambda)$ folgt nämlich aus Gl. (3) für $f = f(\lambda)$:

$$(14) \quad f(\lambda) = \frac{1}{n(\lambda) - 1} \frac{R_1 R_2}{R_2 - R_1}$$

Da $n(\lambda)$ im Allgemeinen mit zunehmender Wellenlänge abnimmt (s. Tab. 1 und Abb. 6), nimmt $f(\lambda)$ mit λ zu. Das bedeutet, dass sich z. B. für rotes Licht eine größere Brennweite ergibt, als für grünes oder blaues Licht.

Frage 3:

- Wie wirkt sich demnach die chromatische Aberration bei der Abbildung von Gegenständen aus, die mit weißem Licht be- oder durchleuchtet werden?

$n(\lambda)$ lässt sich in guter Näherung durch die SELLMIEIER-Gleichung beschreiben:

$$(15) \quad n^2(\lambda) = 1 + B_1 \frac{\lambda^2}{\lambda^2 - C_1} + B_2 \frac{\lambda^2}{\lambda^2 - C_2} + B_3 \frac{\lambda^2}{\lambda^2 - C_3}$$

wobei die Koeffizienten $B_{1,\dots,3}$ und $C_{1,\dots,3}$ experimentell bestimmt werden. Wird λ in μm angegeben, so lauten die Koeffizienten für N-BK7-Glas² (Fehler vernachlässigbar):

$$\begin{array}{lll} B_1 = 1,03961212 & B_2 = 0,231792344 & B_3 = 1,01046945 \\ C_1 = 0,00600069867 \mu\text{m}^2 & C_2 = 0,0200179144 \mu\text{m}^2 & C_3 = 103,560653 \mu\text{m}^2 \end{array}$$

Oftmals ist eine Polynom-Darstellung von $n(\lambda)$ einfacher zu handhaben. Statt Gl. (15) kann man in guter Näherung auch schreiben:

$$(16) \quad n(\lambda) \approx A_1 + A_2\lambda + A_3\lambda^2 + A_4\lambda^3 + A_5\lambda^4$$

Wird λ in nm angegeben, so lauten die Koeffizienten A_1 bis A_5 für N-BK7-Glas (Fehler vernachlässigbar):

$$(17) \quad \begin{array}{lll} A_1 = 1,7403398 & A_2 = -1,1718506 \times 10^{-3} \text{ nm}^{-1} & A_3 = 2,3962174 \times 10^{-6} \text{ nm}^{-2} \\ A_4 = -2,2633115 \times 10^{-9} \text{ nm}^{-3} & A_5 = 8,1271722 \times 10^{-13} \text{ nm}^{-4} \end{array}$$

Tab. 1:

Brechzahl $n(\lambda)$ für N-BK7-Glas². Fehler von n und λ vernachlässigbar.

λ / nm	n
365,0	1,53627
404,7	1,53024
435,8	1,52668
480,0	1,52283
486,1	1,52238
546,1	1,51872
587,6	1,51680
589,3	1,51673
632,8	1,51509
643,8	1,51472
656,3	1,51432
706,5	1,51289
852,1	1,50980

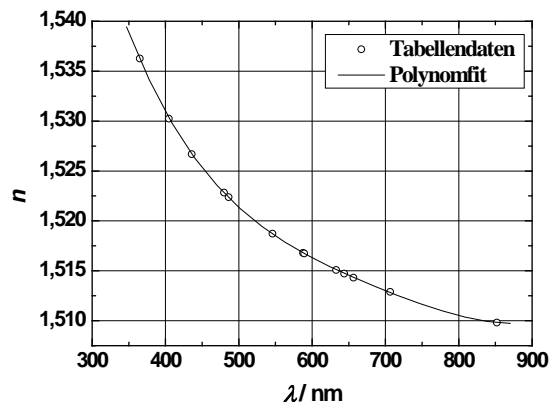


Abb. 6:

Grafische Darstellung der Daten aus Tab. 1 mit Fit durch ein Polynom 4. Grades.

Auch die chromatische Aberration kann durch Kombination mehrerer Linsen zu einem Objektiv minimiert werden, wenn die Linsen aus Gläsern mit unterschiedlicher Brechzahl bestehen.

Im Praktikum setzen wir Einzellinsen ein, werden es also auch immer mit chromatischer Aberration zu tun haben.

² Die im Praktikum verwendeten Linsen sind aus N-BK7-Glas (Borokronglas). Daten aus SCHOTT AG: „Optisches Glas – Datenblätter“, Mainz, 2008

2.5 Blenden und Pupillen

Dasjenige mechanische Element, welches das durch ein Abbildungssystem durchtretende Lichtbündel am meisten begrenzt, heißt *Aperturblende*. Als Aperturblende kann sowohl eine Linsenbegrenzung selbst (z. B. die Linsenfassung), als auch eine zusätzlich in den Strahlengang eingebrachte *Blende* (z. B. eine Irisblende) wirken.

Für die Konstruktion hochwertiger abbildender optischer Instrumente ist es von entscheidender Bedeutung, die Lichtbündelbegrenzung durch die Aperturblende genau zu kennen. Das ist häufig recht kompliziert, da bei solchen Instrumenten üblicherweise *Linsensysteme* mit bis zu 10 oder noch mehr Einzellinsen als *Objektive* verwendet werden, bei denen die Aperturblende „mittendrin“ liegt.

Zunächst einmal ist es wichtig zu wissen, wie viel Licht vom Gegenstand durch die Aperturblende gelangen kann, d. h. wie groß der *Öffnungswinkel* des eintretenden *Lichtbündels* ist, das überhaupt zur Abbildung beitragen kann. Die Größe, die dieses Lichtbündel begrenzt, heißt *Eintrittspupille* - sie ist das vom Gegenstandsraum aus betrachtete Bild der Aperturblende.

Nun kann es sein, dass ein Teil des Lichtes, das durch die Eintrittspupille gelangt, dennoch nicht zur Abbildung beiträgt, weil es z. B. an einer Stelle im Instrument abgeblockt wird, die hinter der Aperturblende liegt. Daher ist es wichtig, auch die Lage der *Austrittspupille* zu kennen, die das austretende Lichtbündel begrenzt - sie ist das Bild der Aperturblende vom Bildraum aus betrachtet.

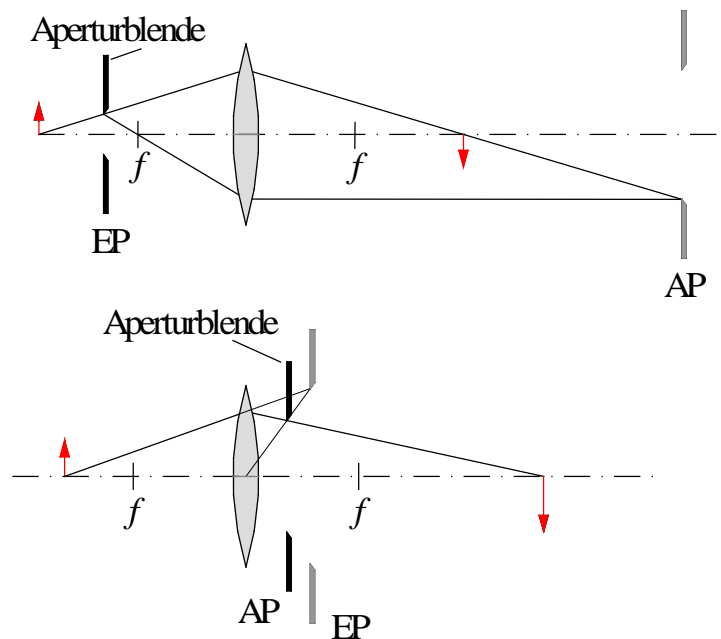


Abb. 7: Zur Lage von Aperturblende, Eintrittspupille EP und Austrittspupille AP. EP und AP sind grau dargestellt, wenn sie nicht mit der Aperturblende (schwarz) zusammen fallen. Oben: Aperturblende vor der Linse; unten: Aperturblende hinter der Linse.

Abb. 7 soll dies verdeutlichen. Wir betrachten das einfache Beispiel eines Abbildungssystems mit einer Linse, bei der die Aperturblende entweder vor der Linse im Gegenstandsraum (oben) oder hinter der Linse im Bildraum (unten) liegt. Damit ist jeweils eine der beiden Pupillen leicht zu konstruieren. Im ersten Fall sieht man nämlich vom Gegenstandsraum aus direkt auf die Aperturblende. Das Bild dieser Blende, die Eintrittspupille EP, ist demnach die Blende selbst. Im zweiten Fall gilt Analoges für die Austrittspupille AP. Die Festlegung der Lage der jeweils anderen Pupille ist schon etwas schwieriger: Mithilfe geeigneter Strahlen (Parallelstrahlen, Brennpunktstrahlen, Mittelpunktstrahl) muss jeweils das entsprechende Bild der Aperturblende gefunden werden. Daraus wird deutlich, dass z. B. für hochwertige Objektive die Verhältnisse schnell kompliziert werden. Solche Objektive bestehen nicht selten aus 10 oder mehr Einzellinsen mit einer einstellbaren Aperturblende z. B. zwischen der 4. und 5. Linse.

2.6 Optische Geräte

2.6.1 Lupe

Eine Lupe soll von kleinen, in der Nähe des Beobachters befindlichen Gegenständen ein vergrößertes Bild erzeugen, wenn die Bildgröße, die durch maximale Annäherung des bloßen Auges an den Gegenstand erreicht werden kann, nicht ausreicht.

Sei s die minimale Entfernung zwischen Auge und Gegenstand, bei der noch scharfes Sehen möglich ist (*Nahpunkt* des Auges). Dann gilt für den Sehwinkel α_0 , d. h. den Winkel, unter dem der Gegenstand der Höhe h_0 vom Mittelpunkt der Augenpupille aus gesehen wird :

$$(18) \quad \tan \alpha_0 = \frac{h_0}{s}$$

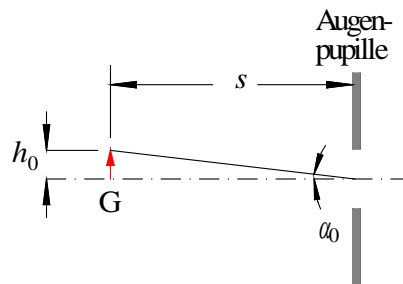


Abb.8: Zur Definition des Sehwinkels α_0 .

Da wir uns gem. Kap. 2.1 auf den paraxialen Bereich beschränken, gilt $\tan \alpha_0 \approx \alpha_0$ und damit:

$$(19) \quad \alpha_0 \approx \frac{h_0}{s}$$

Wir bringen nun gem. Abb. 9 eine Sammellinse (Lupe) der Brennweite f vor das Auge und ordnen den Gegenstand in einem Abstand $g < f$ vor der Sammellinse an. In diesem Fall gilt gem. Gl. (4) $b < 0$, $|b| > g$. Es entsteht also ein aufrechtes, *virtuelles* Bild des Gegenstandes mit der transversalen Vergrößerung (Gl. (5))

$$(20) \quad M = \frac{h_1}{h_0} = 1 - \frac{b}{f} = 1 + \frac{|b|}{f}$$

Für den Sehwinkel α_1 , unter dem das virtuelle Bild der Höhe h_1 gesehen wird, gilt im paraxialen Fall:

$$(21) \quad \alpha_1 \approx \frac{h_1}{|b| + f}$$

Die *Sehwinkelvergrößerung* M_s ist definiert als:

$$(22) \quad M_s = \frac{\alpha_1}{\alpha_0} = \frac{h_1}{h_0} \frac{s}{|b| + f}$$

Mit Gl. (22) folgt:

$$(23) \quad M_s = M \frac{s}{|b| + f} = \left(1 + \frac{|b|}{f}\right) \frac{s}{|b| + f}$$

Wird der Gegenstand im Abstand $g \approx f$ vor der Linse angebracht, so geht $b \rightarrow -\infty$. In diesem Fall verlassen die Lupe nahezu parallele Lichtbündel, die vom entspannten Auge (Akkommodation auf ∞) auf die

Netzhaut fokussiert werden. Für diese Bedingung ($|b| \rightarrow \infty$) folgt aus Gl. (25) für alle praktischen Werte von $f \ll b$:

$$(24) \quad M_s \approx \left(1 + \frac{|b|}{f}\right) \frac{s}{|b|} \approx \frac{s}{f}$$

Für das *Durchschnittsaug* mit einem Nahpunkt bei $s = 250$ mm gilt also:

$$(25) \quad M_s \approx \frac{250 \text{ mm}}{f} \quad (f \text{ in mm})$$

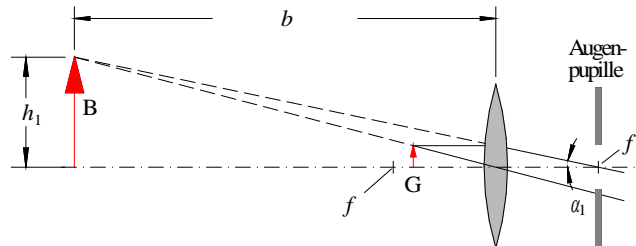


Abb.9: Zur Bildentstehung bei der Lupe.

2.6.2 Astronomisches Fernrohr

Astronomische (KEPLERSche) Fernrohre dienen der Sehwinkelvergrößerung für die Beobachtung weit entfernter Objekte. Sie bestehen aus einer Sammellinse großer Brennweite f_1 , dem *Objektiv*, und einer Sammellinse kleiner Brennweite f_2 , dem *Okular*. Das Objektiv entwirft von dem Gegenstand ein *reelles Zwischenbild*, das mit dem als Lupe eingesetzten Okular betrachtet wird (Abb. 10).

Wir bezeichnen mit g_1 und b_1 die Gegenstands- bzw. Bildweite bezogen auf das Objektiv und mit g_2 und b_2 die Gegenstands- bzw. Bildweite bezogen auf das Okular.

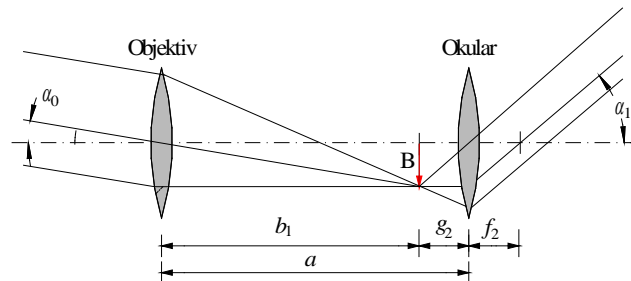


Abb. 10: Zur Bildentstehung beim astronomischen Fernrohr.

Da für die üblichen Anwendungen des astronomischen Fernrohrs $g_1 \rightarrow \infty$ gesetzt werden darf, folgt $b_1 \approx f_1$. Das Objektiv erzeugt also ein umgekehrtes *reelles* Zwischenbild B in der Nähe seiner hinteren Brennebene. Dieses Zwischenbild wird mit dem Okular als Lupe betrachtet, d. h. $g_2 \approx f_2$ und damit $b_2 \rightarrow -\infty$. Das bedeutet für den Abstand a zwischen Objektiv und Okular:

$$(26) \quad a = b_1 + g_2 \approx f_1 + f_2$$

Blicken wir mit dem entspannten Auge durch das Okular, so sehen wir ein umgekehrtes, *virtuelles* Bild des Gegenstandes.

Für die Sehwinkelvergrößerung im paraxialen Fall gilt auch hier wie bei der Lupe $M_s = \alpha_1/\alpha_0$, wobei α_0 der Sehwinkel ohne und α_1 der Sehwinkel mit Fernrohr ist. Daraus folgt mit Berücksichtigung der unterschiedlichen Vorzeichen³ von α_0 und α_1 für $g \rightarrow \infty$:

$$(27) \quad M_s = \frac{\alpha_1}{\alpha_0} \approx \left(-\frac{h_b}{f_2}\right) : \left(\frac{h_b}{f_1}\right) = -\frac{f_1}{f_2}$$

³ Wird in Abb. 12 der Winkel α_1 gegen den Uhrzeigersinn und damit negativ gezählt, so muss α_0 im Uhrzeigersinn und damit positiv gezählt werden.

3 Versuchsdurchführung

Zubehör:

Dreieckschiene, Reiter, U-Halter, Stativmaterial, höhenverstellbarer Zeiger und Stativstange mit Spitze als Justierhilfen, plankonvexe Linse ($f \approx 300$ mm / $\varnothing \approx 90$ mm, N-BK7-Glas), Irisblende, Blendenbleche mit *kreisförmigen* Öffnungen (Durchmesser $D = (11,1; 12,5; 14,3; 16,7; 20; 25)$ mm, Fehler vernachlässigbar), Blendenbleche mit *kreisringförmigen* Öffnungen (mittlere Radien der Kreisringe $r = (7,1; 14,7; 19,5; 23,3; 26,6)$ mm, Fehler vernachlässigbar), Interferenzfilter (maximale Transmission bei ca. (405, 450, 488, 515, 532, 577, 632, 670, 694) nm, Halbwertsbreite der Transmissionskurven ca. 10 nm), Messdia mit *USAF 1951 Resolution Chart*, Spaltblende (Breite ca. 0,2 mm) in Drehhalterung, Halogenlampe mit Netzgerät und Kondensator, Mattscheibe, CCD-Kamera (DMK 21AU04) mit Rohraufsatz als Streulichtschutz, Laptop mit Software zur Bilderfassung, $x/y/z$ -Verschiebetisch für Kamera, Fernrohr mit $f_1 = (1000 \pm 10)$ mm und $f_2 = (100 \pm 1)$ mm, Maßband, abwischbarer Filzstift, Messschieber, Taschenlampe, Werkzeug.

Hinweis:

Nach Beendigung der Versuche müssen alle Optiken mit den bereitliegenden Plastiktüten wieder abgedeckt werden.

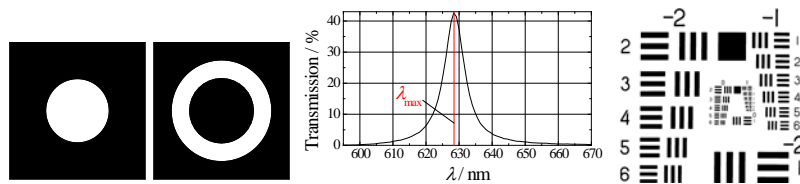


Abb. 11: Schematische Darstellungen zu verwendeten Versuchskomponenten. V.l.n.r.: Kreisblende, Kreisringblende, typische Transmissionskurve eines Interferenzfilters, USAF 1951 Resolution Chart.

3.1 Hinweise zur Versuchsanordnung

In den folgenden Versuchsteilen 3.1.1 (Messung der chromatischen Aberration) und 3.1.2 (Messung der sphärischen Aberration) soll die Bestimmung der Linsenbrennweite f jeweils mit einer Anordnung gem. Abb. 12 nach dem *BESSEL-Verfahren* erfolgen (s. Kap. 2.3). Diese Anordnung wird zunächst beschrieben.

Ein Objekt G (Messdia mit *USAF 1951 Resolution Chart*, einem definierten Strich- und Zahlenmuster, vgl. Abb. 11) wird von hinten mit einer Halogenlampe HL beleuchtet, deren Kondensator K für ein möglichst paralleles Lichtbündel sorgt. Direkt hinter dem Kondensator wird eine Mattscheibe MS angebracht, mit der eine gleichmäßige und diffuse Ausleuchtung des Dias erreicht wird. Eine Irisblende B_1 zwischen MS und G sorgt dafür, dass nur das Strich- und Zahlenmuster auf dem Dia beleuchtet und somit das Streulicht minimiert wird. Mit einer Linse L ($f \approx 300$ mm, $\varnothing \approx 90$ mm, plankonvex) wird das Muster auf dem Messdia auf den Sensor einer CCD-Kamera abgebildet. Vor die Kamera wird ein Rohr ST montiert, mit dem der Einfall von Streulicht auf den CCD-Sensor minimiert wird.

Die Kamera ist über eine USB-Schnittstelle mit dem PC verbunden. Die Steuerung der Bildaufnahme und die Bilddarstellung erfolgt über das Matlab-Skript `BildEinlesen.m`, dessen Bildschirmoberfläche in Abb. 13 dargestellt ist. Nach dem Start des Skriptes wird die Kamera zunächst initialisiert (Button `Initialize Camera`). Danach wird die Bildaufnahme gestartet (`Start Live Image`) und die Parameter `Exposure Time` (Belichtungszeit) und `Offset` werden so eingestellt, dass es zu keiner Unter- oder Übersteuerung im Bild kommt⁴. Die Wertebereiche, innerhalb derer die Parameter geändert werden können, werden links neben den Eingabefeldern angezeigt. Der Parameter `Gain` (Verstärkung) bleibt auf dem niedrigst möglichen Wert.

Das Kamerabild wird im Matlab-Fenster `BildEinlesen` oben angezeigt, darunter ein Profilschnitt⁵ längs der Bildzeile mit der im Feld `Line No.` eingestellten Nummer.

Haben CCD-Sensor und Dia den festen Abstand $e > 4f$ (für $f \approx 300$ mm ist $e \approx 1300$ mm eine gute Wahl), so gibt es zwei Positionen der Linse L , bei denen eine scharfe Abbildung erfolgt. In einer Stellung findet eine Vergrößerung statt, in der anderen eine Verkleinerung. Durch Aufsuchen dieser beiden Linsenpositionen und Messung ihres Abstandes d kann die Brennweite der Linse gem. Gl. (12) bestimmt werden.

⁴ Eine Über- und Untersteuerung erkennt man daran, dass die maximalen und minimalen Grauwerte im Bild bei geringer Variation der Parameter `Exposure Time` und / oder `Offset` unverändert bleiben. Um auf der sicheren Seite zu sein, sollte der maximale Grauwert < 255 sein und der minimale Grauwert > 0 .

⁵ Als *Profilschnitt* wird der Verlauf der Intensität $I(p)$ in Grauwerten längs der Pixel einer Bildzeile bezeichnet (p : Pixelnummer).

Für den Versuchsteil 3.1.1 (chromatische Aberration) wird die Brennweite der Linse für verschiedene Interferenzfilter F vor dem Messdia gemessen, für den Versuchsteil 3.1.2 (sphärische Aberration) für verschiedene Kreisringblenden B vor der Linse.

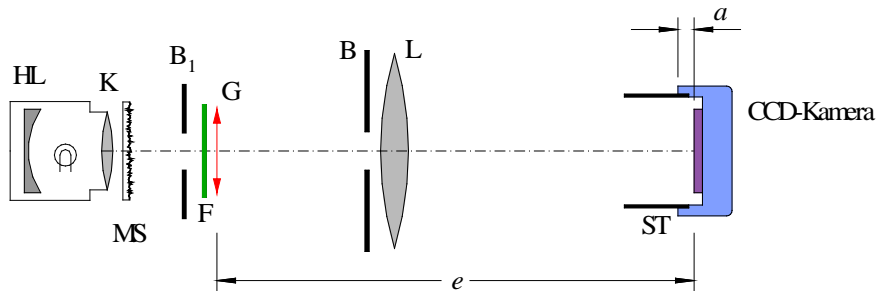


Abb. 12: Versuchsanordnung zur Brennweitenbestimmung der Linse L. HL: Halogenlampe mit Kondensator K, MS: Mattscheibe, B₁: Irisblende, F: Interferenzfilter, G: Messdia mit Strichmuster, B: Blende vor Linse L, ST: Rohr vor CCD-Kamera zur Streulichtminimierung, a : Apparatekonstante⁶, e : Abstand Messdia / CCD-Sensor.

Hinweise:

- (1) Bei den folgenden Versuchen erzielt man nur dann gute Resultate, wenn der optische Aufbau sorgfältig justiert wurde, d. h. alle Komponenten mittig zur optischen Achse ausgerichtet wurden. Abweichungen von der optimalen Justage im mm-Bereich führen bereits zu deutlichen Verfälschungen der Messergebnisse!
- (2) Zur vertikalen Justage der optischen Komponenten dient ein höhenverstellbarer Zeiger als Justierhilfe, zur horizontalen Justage (senkrecht zur optischen Achse) eine Stativstange mit Spitze.
- (3) Die verschiedenen Blenden B (Abb. 11 links) müssen genau mittig vor die Linse L montiert werden. Das erreicht man, indem die Blendenbleche jeweils so in den mit der Linse verbunden Blendenhalter eingesetzt werden, dass die Markierung auf den Blendenblechen (Farbpunkt oder Gravur oder Loch) nach rechts oben zeigt, wenn man aus Richtung der Halogenlampe auf die Blendenbleche schaut.

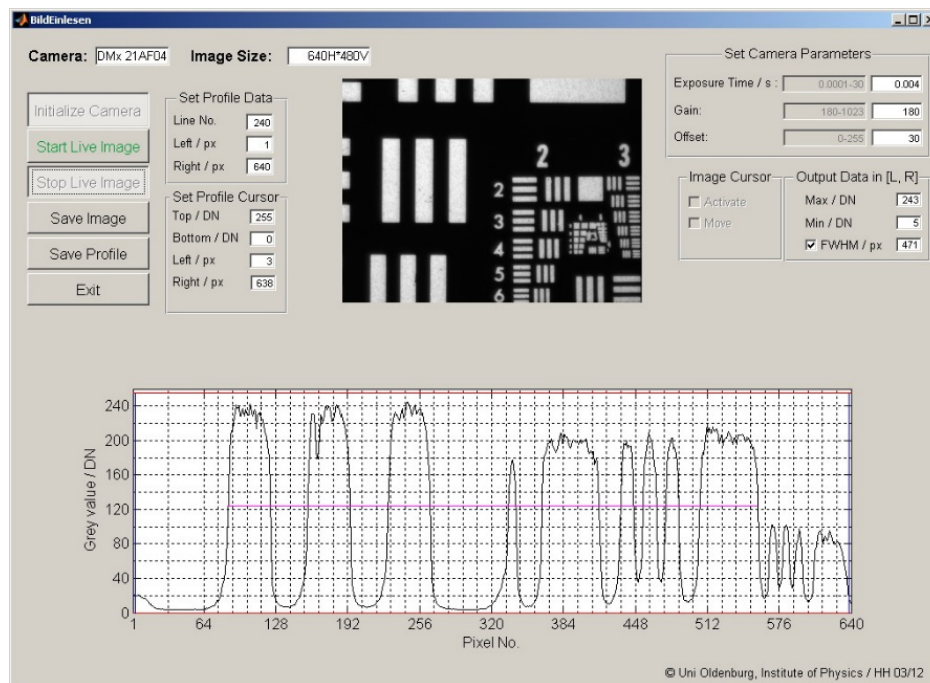


Abb. 13: Bildschirmoberfläche nach Start des Matlab-Skriptes `BildEinlesen.m`, Initialisierung der CCD-Kamera (Initialize Camera), Einstellung von Parametern (Set Camera Parameters, Set Profile Data, Set Profile Cursor) und Aufnahme eines Kamerabildes (Start Live Image, Stop Live Image). Das Kamerabild wird oben dargestellt, der zugehörige Profilschnitt unten. Grauwerte werden als „Digital numbers“ (DN) ausgegeben.

⁶ Die Apparatekonstante $a = 9,6$ mm (Fehler vernachlässigbar) ist die Entfernung zwischen der Außenkante des Kameragehäuses (blau) und der Oberfläche des CCD-Sensors (lila).

3.1.1 Chromatische Aberration

Für diesen Versuchsteil wird zur Minimierung der sphärischen Aberration eine Blende B mit einer kreisförmigen Öffnung (Kreisblende, s. Abb. 11) von 20 mm Durchmesser in den mit der Linse verbundenen Blendenhalter eingesetzt. Vor das Messdia G werden nacheinander verschiedene Interferenzfilter F montiert und jeweils die Brennweite f der plankonvexen Linse nach dem BESSEL-Verfahren gemessen. Die Wellenlänge für die maximale Transmission der Filter, λ_{\max} , (Abb. 11 Mitte) ist dem Aufdruck auf den Filtern zu entnehmen. Sie kann als fehlerfrei angenommen werden. Die Interferenzfilter sind jeweils so einzusetzen, dass diejenige Filterfläche, die silbrig reflektierend erscheint, zur Lichtquelle zeigt.

f wird über λ_{\max} grafisch aufgetragen; die Größtfehler von f werden in Form von Fehlerbalken eingezeichnet.

3.1.2 Sphärische Aberration

Für diesen Versuchsteil wird zur Minimierung der chromatischen Aberration ein Interferenzfilter F mit $\lambda_{\max} \approx 530$ nm vor dem Messdia G angebracht. In den mit der Linse verbundenen Blendenhalter werden nacheinander fünf Kreisringblenden B (Abb. 11) mit unterschiedlichen mittleren Radien r eingesetzt und jeweils die Brennweite der Linse nach dem BESSEL-Verfahren gemessen. r kann der Versuchszubehörliste und dem Aufdruck auf den Kreisringblenden entnommen werden.

f wird grafisch über r^2 aufgetragen; die Größtfehler von f werden in Form von Fehlerbalken eingezeichnet. Aus einer Ausgleichsgeraden durch die Messwerte wird die Konstante k aus Gl. (13) und die Brennweite f_0 bestimmt.

3.2 Schwinkelvergrößerung mit einem Fernrohr

Mit zwei Linsen ($f_1 = (1000 \pm 10)$ mm, $f_2 = (100 \pm 1)$ mm) wird auf einer Dreieckschiene ein Fernrohr aufgebaut (Abb. 12).

Hinweis:

Um vernünftige Ergebnisse zu erzielen, müssen beide Linsen auf einer gemeinsamen optischen Achse mittig ausgerichtet werden. Die dazu erforderliche Justierung der Linsen in ihren Halterungen wurde von der technischen Assistenz vor Versuchsbeginn durchgeführt und darf nicht mehr verändert werden! Die Linsen werden also in ihren Halterungen auf die Dreieckschiene aufgesetzt und dort nur noch an die richtigen Positionen geschoben.

Mit dem Fernrohr wird ein Gegenstand in großer Entfernung betrachtet, dazu wird das Fernrohr durch das Laborfenster nach draußen gerichtet⁷. Der Schwinkel mit und ohne Fernrohr wird gemessen, die Schwinkelvergrößerung bestimmt und das Ergebnis mit dem nach Gl. (27) erwarteten Resultat verglichen.

Zur Bestimmung des Schwinkels α_0 ohne Fernrohr wird der Gegenstand mit bloßem Auge angepeilt (s. Abb. 14). Vom Versuchspartner/in werden an der etwa $l = 3$ m vom Auge entfernten Laborfensterscheibe zwei Markierungen angebracht, die *scheinbar* den gleichen Abstand s_0 voneinander haben wie zwei markante Punkte P_1 und P_2 des Gegenstandes. Für den Schwinkel α_0 gilt dann in guter Näherung:

$$(28) \quad \alpha_0 \approx \frac{s_0}{l}$$

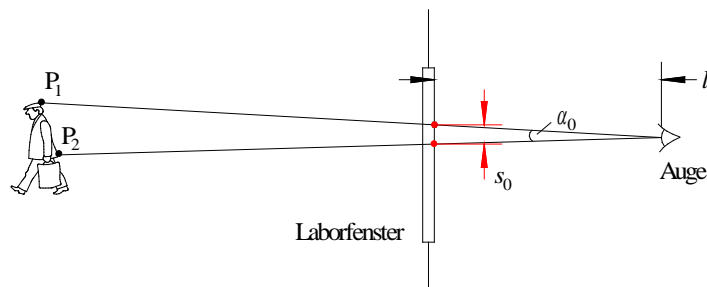


Abb. 14: Zur Messung des Schwinkels. Die Markierungen am Laborfenster (rote Punkte) haben scheinbar den gleichen Abstand s_0 voneinander wie die Punkte P_1 und P_2 des mit dem bloßen Auge angepeilten Objektes.

⁷ Der Gegenstand ist eine Aluminiumschiene mit zwei Markierungen, die an einer dem Laborfenster gegenüber liegenden Hauswand angebracht ist.

Anschließend wird die gleiche Prozedur mit dem Fernrohr zur Bestimmung des Seh winkels α_1 wiederholt. Diesmal blickt man mit einem Auge durch das Fernrohr auf den Gegenstand und mit dem anderen am Fernrohr vorbei auf die Laborfensterscheibe in der Entfernung l . Wieder werden zwei Markierungen auf der Laborfensterscheibe angebracht, die diesmal *scheinbar* den gleichen Abstand s_1 voneinander haben wie die beiden durch das Fernrohr betrachteten Punkte P_1 und P_2 . Für den Seh winkel α_1 gilt dann:

$$(29) \quad \alpha_1 \approx \frac{s_1}{l}$$

Daraus folgt für die Seh winkelvergrößerung M_s :

$$(30) \quad M_s = \frac{\alpha_1}{\alpha_0} \approx \frac{l s_1}{l s_0} = \frac{s_1}{s_0}$$